

Mo

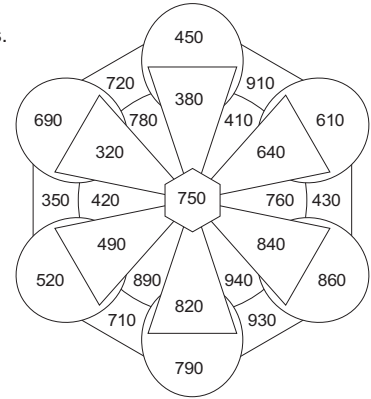
erledigt
 kontrolliert

Rechenmandala zur Addition

Rechne die Aufgaben aus und schreibe die Lösungen in die freien Felder.
Male im Rechenmandala alle Felder mit den Lösungszahlen mit einer Farbe aus.

A $540 + 210 =$ <input type="text"/>	F $190 + 260 =$ <input type="text"/>
B $150 + 230 =$ <input type="text"/>	G $370 + 150 =$ <input type="text"/>
C $620 + 170 =$ <input type="text"/>	H $550 + 310 =$ <input type="text"/>
D $370 + 120 =$ <input type="text"/>	I $320 + 290 =$ <input type="text"/>
E $410 + 280 =$ <input type="text"/>	J $480 + 360 =$ <input type="text"/>

Kontrollbild

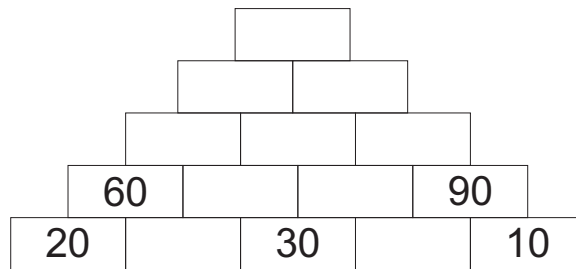


Di

erledigt
 kontrolliert

Zahlenmauer

Setze die Zahlen so in die Zahlenmauer ein, dass zwei Zahlen, die nebeneinander stehen, zusammengezählt immer die Zahl darüber ergeben.
Löse die Aufgabe zunächst auf einem Zettel oder im Heft und übertrage dann deine Lösung in diese Zahlenmauer.



- 10 20 30 40 60 70 80 90 110 130 180 200 310 380 690

Mi

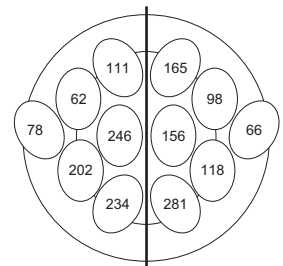
erledigt
 kontrolliert

Halbiere!

Halbiere jede Zahl im Kopf und schreibe deine Lösung in das freie Feld neben der Aufgabe.
Male dann im Kontrollbild alle Felder mit den Lösungszahlen in deiner Lieblingsfarbe aus.

A	124	<input type="text"/>	B	156	<input type="text"/>
	236	<input type="text"/>		222	<input type="text"/>
	404	<input type="text"/>		330	<input type="text"/>
	196	<input type="text"/>		468	<input type="text"/>
	312	<input type="text"/>		132	<input type="text"/>
	492	<input type="text"/>		562	<input type="text"/>

Kontrollbild



Do

erledigt
 kontrolliert

Welche Zahl liegt dazwischen?

Verfolge die Zahlenreihe und kreuze an, welche Zahl dazwischen liegt. Aus den Kennbuchstaben der richtigen Lösungen ergibt sich ein Lösungswort.

A 60 90	K 110	R 120 150	B 55 70	E 85	R 80 100	C 86 97	E 110	P 106 119
	L 130			A 95			I 108	
D 30 80	G 120	S 130 180	E 11 28	E 45	F 46 62			
	D 140			G 47				

Lösungswort:





A	B	C	D	E
<input type="checkbox"/>	<input type="checkbox"/>	<input type="checkbox"/>	<input type="checkbox"/>	<input type="checkbox"/>

Fr

erledigt
 kontrolliert

Messen von Längen

Miss die dargestellten Gegenstände auf Millimeter genau ab. Die Buchstaben der richtigen Lösungen ergeben das Lösungswort.

A 	C 	N 6,1 cm	
H 3,5 cm	B 3,8 cm	T 5,2 cm	K 4,4 cm
B 	D 	L 5,3 cm	
O 3,9 cm	E 4,8 cm	S 5,4 cm	N 2,4 cm
	D 1,9 cm		R 1,5 cm

Lösungswort:

A	B	C	D
<input type="checkbox"/>	<input type="checkbox"/>	<input type="checkbox"/>	<input type="checkbox"/>

Mo

Plustreppen
Vervollständige die Plustreppen so, dass zwei Zahlen in Feldern, die nebeneinander stehen, zusammengezählt immer die Zahl im oberen Nachbarfeld ergeben.

A

B

erledigt
 kontrolliert

Di

Multiplizieren mit Zehnern
Multipliziere die Zahlen miteinander. Aus den Kennbuchstaben der richtigen Lösungen ergibt sich das Lösungswort.

A 20 • 40	B 300	B 50 • 30	I 1500	C 80 • 70	O 2800
D 30 • 60	S 800	E 90 • 30	G 2000	G 4300	L 5600
N 1200	Z 500	W 1800	R 1200	E 5600	R 6300
H 2400	B 1800	Z 3200	E 2700	Z 6500	

Lösungswort:

A	<input type="checkbox"/>
B	<input type="checkbox"/>
C	<input type="checkbox"/>
D	<input type="checkbox"/>
E	<input type="checkbox"/>
F	<input type="checkbox"/>

erledigt
 kontrolliert

Mi

Verdopple!
Verdopple jede Zahl im Kopf und schreibe deine Lösung in das freie Feld neben der Aufgabe. Male dann im Kontrollbild alle Felder mit den Lösungszahlen in deiner Lieblingsfarbe aus.

A

67	
29	
47	
127	
209	
96	

B

156	
137	
217	
199	
236	
418	

Kontrollbild

erledigt
 kontrolliert

Do

Rechnen mit Geld
Du gehst einkaufen und hast den angegebenen Betrag in deinem Geldbeutel. Kreuze an wie viel Geld du noch hast, wenn du die in den Kästen gezeigten Beträge gezahlt hast. Die Buchstaben hinter den richtigen Lösungen ergeben das Lösungswort.

A € 8	B € 7	C € 12	D € 6
--------------	--------------	---------------	--------------

€ 2,50

€ 3,00 **M**

€ 1,50 **F**

€ 2,00 **P**

€ 3,50

€ 2,40 **I**

€ 3,10 **A**

€ 2,50 **O**

€ 1,70

€ 3,60

€ 1,70 **T**

€ 1,30 **L**

€ 2,00 **P**

€ 2,90

€ 7,10

€ 3,30 **Z**

€ 2,90 **M**

€ 3,20 **A**

Lösungswort:

A	<input type="checkbox"/>
B	<input type="checkbox"/>
C	<input type="checkbox"/>
D	<input type="checkbox"/>

erledigt
 kontrolliert

Fr

Buchstaben in Gitterfeldern
Übertrage die Buchstaben unten in die freien Gitterfelder. Male das fertige Bild dann in deinen Lieblingsfarben aus.

erledigt
 kontrolliert

Mo

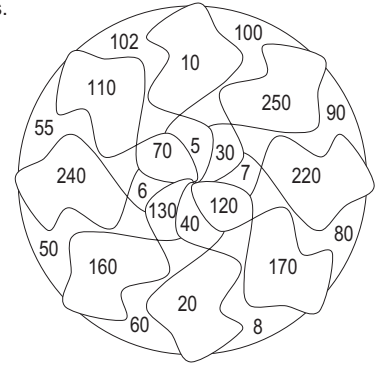
erledigt kontrolliert

Rechenmandala Subtraktion

Rechne die Aufgaben aus und schreibe die Lösungen in die freien Felder. Male im Rechenmandala alle Felder mit den Lösungszahlen mit einer Farbe aus.

A 240 - 170 = <input type="text"/>	F 390 - 280 = <input type="text"/>
B 350 - 230 = <input type="text"/>	G 370 - 150 = <input type="text"/>
C 420 - 260 = <input type="text"/>	H 550 - 310 = <input type="text"/>
D 370 - 120 = <input type="text"/>	I 320 - 290 = <input type="text"/>
E 410 - 280 = <input type="text"/>	J 480 - 310 = <input type="text"/>

Kontrollbild



Di

erledigt kontrolliert

Kopfrechnen: Division ohne Rest

Dividiere die Zahlen. Aus den Kennbuchstaben der richtigen Lösungen ergibt sich ein Lösungswort.

A 81 : 9	B 32 : 4	C 63 : 7	D 27 : 3
G 8 T 9 Z 7	O 8 I 9 R 7	C 7 S 8 R 9	O 8 H 7 W 9
E 18 : 2	F 64 : 8	G 40 : 5	Lösungswort:
A 9 T 8 K 7	G 7 L 9 N 8	P 9 D 8 K 7	A B C D E F G

Mi

erledigt kontrolliert

Stellenwerttafel

Kreuze den richtigen Wert an, der in der Stellenwerttafel gegeben ist. Aus den Kennbuchstaben der richtigen Lösungen ergibt sich eine Lösungswort.

	H	Z	E	
A	3	6	1	A 513 W 361 M 153 B
B	0	9	1	B 91 O 910 P 90 U
C	1	6	5	C 165 S 167 K 175 Q
D	2	8	3	D 832 R 238 C 283 K
E	6	1	8	E 816 I 618 A 681 H
F	4	5	1	F 451 U 415 Z 514 H

Lösungswort:

A	B	C	D	E	F
<input type="checkbox"/>	<input type="checkbox"/>	<input type="checkbox"/>	<input type="checkbox"/>	<input type="checkbox"/>	<input type="checkbox"/>

Do

erledigt kontrolliert

Rechnen mit Stunden, Minuten und Sekunden

Rechne in Minuten um. Die Buchstaben der richtigen Lösungen ergeben das Lösungswort.

A S 135 min	B S 192 min	C H 115 min	D S 150 min	E S 235 min	F S 196 min
D 120 min	D 206 min	D 120 min	E 160 min	D 240 min	N 206 min
W 105 min	C 186 min	W 105 min	W 180 min	I 245 min	W 186 min
2 h 15 min	3 h 6 min	1 h 55 min	2 h 40 min	4 h 5 min	3 h 26 min

Lösungswort:

A	B	C	D	E	F
<input type="checkbox"/>	<input type="checkbox"/>	<input type="checkbox"/>	<input type="checkbox"/>	<input type="checkbox"/>	<input type="checkbox"/>

Fr

erledigt kontrolliert

Kilometer (km) / Meter (m)

Kreuze die Größe an, die den gleichen Wert wie vorher angibt. Die Buchstaben zur richtigen Lösung ergeben das Lösungswort.

A 1700 m = 1 km 700 m =	B 5300 m = 5 km 300 m =	Lösungswort:
S 1,7 km P 8,1 km L 0,8 km	K 5,2 km P 3,5 km T 5,3 km	
C 2090 m = 2 km 90 m =	D 7500 m = 7 km 500 m =	
K 1,8 km R 2,09 km O 2,9 km	M 7,4 km A 7,1 km E 7,5 km	
E 2070 m = 2 km 70 m =	F 9800 m = 9 km 800 m =	
I 2,07 km N 2,7 km H 7,2 km	T 9,8 km F 8,9 km G 9,7 km	

Mo

Addition bis 1000 mit Überschreitung
 Rechne die Aufgaben aus und schreibe die Lösungen unter die Aufgaben. Kreuze unten deine Lösungen an.

A	3	8	6
+	4	9	5

B	2	5	4
+	5	6	8

C	1	7	5
+	2	9	8

D	1	9	9
+	3	8	8

E	2	3	7
+	1	7	6

F	5	2	5
+	2	7	5

G	2	6	4
+	6	5	9

H	5	7	4
+	2	6	9

843
 881
 413
 587
 740
 567
 567
 822
 473
 923
 800

Rechne im Kopf!
 Rechne die Aufgaben aus und schreibe die Lösungen in die freien Felder. Aus den Kontrollbuchstaben der richtigen Antwort ergibt sich ein Lösungswort.

A	$350 - 180 =$	<input type="text"/>
----------	---------------	----------------------

B	$750 - 490 =$	<input type="text"/>
----------	---------------	----------------------

C	$520 - 360 =$	<input type="text"/>
----------	---------------	----------------------

D	$680 - 490 =$	<input type="text"/>
----------	---------------	----------------------

E	$570 - 250 =$	<input type="text"/>
----------	---------------	----------------------

F	$400 - 210 =$	<input type="text"/>
----------	---------------	----------------------

Kennbuchstaben

180	140	190	170	320	160	260	150
↓	↓	↓	↓	↓	↓	↓	↓
A	B	E	F	G	I	L	M

Lösungswort:

A	B	C	D	E	F
<input type="checkbox"/>	<input type="checkbox"/>	<input type="checkbox"/>	<input type="checkbox"/>	<input type="checkbox"/>	<input type="checkbox"/>

Di

Größer, kleiner, gleich?
 Kreuze an, ob die Folgezahl größer, kleiner oder gleich ist. Aus den Kennbuchstaben der richtigen Lösungen ergibt sich ein Lösungswort.

A	196	Z >
		J < 189
		U =

C	539	H >
		B < 545
		W =

E	999	L >
		M < 666
		R =

B	716	O >
		L < 706
		B =

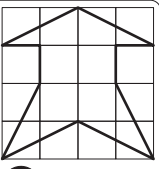
D	777	A >
		P < 777
		E =

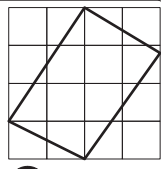
Lösungswort:

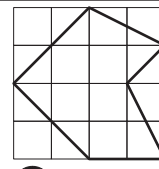
A	B	C	D	E
<input type="checkbox"/>	<input type="checkbox"/>	<input type="checkbox"/>	<input type="checkbox"/>	<input type="checkbox"/>

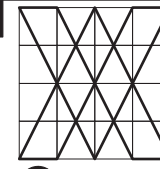
Mi

Achsensymmetrie
 Sind die Figuren achsensymmetrisch? Die Buchstaben der richtigen Lösungen ergeben das Lösungswort.

A		M ja
		H nein

B		U ja
		A nein

C		N ja
		U nein

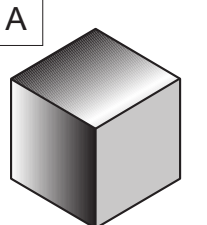
D		S ja
		D nein

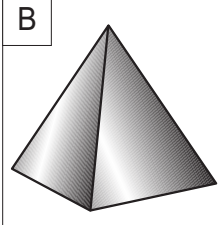
Lösungswort:

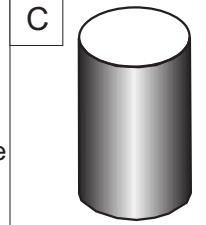
A	B	C	D
<input type="checkbox"/>	<input type="checkbox"/>	<input type="checkbox"/>	<input type="checkbox"/>

Do

Geometrische Körper
 Kreuze den Namen des abgebildeten Körpers an. Aus den Kennbuchstaben der richtigen Lösungen ergibt sich ein Lösungswort.

A		A Würfel
		B Kegel
		Z Kugel

B		D Quader
		M Kugel
		B Pyramide

C		C Würfel
		T Zylinder
		O Ball

Lösungswort:

A	<input type="checkbox"/>	B	<input type="checkbox"/>	C	<input type="checkbox"/>
----------	--------------------------	----------	--------------------------	----------	--------------------------

Fr