

Mo

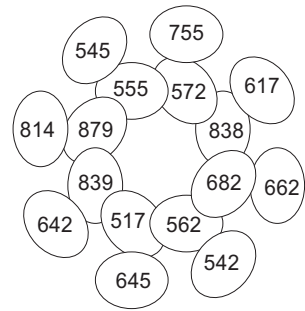
erledigt kontrolliert

Rechenmandala Addition

Rechne die Aufgaben aus und schreibe die Lösungen in die freien Felder.
Male im Rechenmandala alle Felder mit den Lösungszahlen mit einer Farbe aus.

A 480 + 275 =	F 195 + 360 =
B 390 + 448 =	G 372 + 190 =
C 290 + 372 =	H 450 + 389 =
D 265 + 380 =	I 320 + 297 =
E 440 + 374 =	J 180 + 462 =

Kontrollbild



Di

erledigt kontrolliert

Vorgänger/Nachfolger

Kreuze den richtigen Vorgänger und Nachfolger an. Aus den Kennbuchstaben der Lösungen ergibt sich ein Wort.

A	B	C	D
T 388 V 99 G 665 N 668 G 818 H 818 G 601 V 602	B 387 389 R 390 B 668 667 F 666 K 816 817 F 820 A 599 600 L 601	L 390 E 102 I 666 E 665 L 810 E 821 L 598 E 599	
E			
P 341 E 347	O 347 346 F 348	L 345 S 342	

Lösungswort: **A** **B** **C** **D** **E**

Mi

erledigt kontrolliert

Tonnen (t), Kilogramm (kg) und Gramm (g)

Kreuze das Gewicht an, das den gleichen Wert wie vorher angibt. Die Buchstaben zur richtigen Lösung ergeben das Lösungswort.

A 7 kg 300 g =	B 2 t 8 kg =	C 7 kg 50 g =	Lösungswort: A B C D E F
A 7030 g P 7003 g	F 2800 kg I 2008 kg	R 7050 g F 7500 g	
B 7300 g	P 2080 kg	L 7005 g	
D 6 t 20 kg =	E 9 kg 605 g =	F 7 t 900 kg =	
N 6020 kg M 6200 kg	C 5200 g L 2500 g	M 790 kg H 7009 kg	
E 6002 kg	E 9605 g	N 7900 kg	

Do

erledigt kontrolliert

Welche Zahl liegt dazwischen?

Verfolge die Zahlenreihe und kreuze an, welche Zahl dazwischen liegt. Aus den Kennbuchstaben der richtigen Lösungen ergibt sich ein Lösungswort.

A 56 73 M 80 R 70 107 F 90	B 91 98 I 115 E 105 112 O 103	C 21 49 L 77 G 88 105 I 72
D 47 86 S 115 E 135 164 G 125	E 19 54 Z 79 E 89 124 N 99	

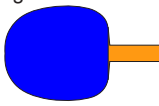


Lösungswort: **A** **B** **C** **D** **E**

Fr

erledigt kontrolliert

Messen von Längen

Miss die folgenden Gegenstände auf den Abbildungen genau ab. Die Buchstaben der richtigen Lösungen ergeben das Lösungswort.

A 	B 1,5 cm	O 2,1 cm
	A 2,1 cm	E 2,7 cm
	H 2,5 cm	U 2,4 cm
C 	D 	
T 4,0 cm I 3,8 cm L 4,5 cm	O 2,1 cm	
	L 1,9 cm	
	Z 2,3 cm	

Lösungswort: **A** **B** **C** **D**

Mo

erledigt
 kontrolliert

Lauter Kettenaufgaben

Übertrage die Kettenaufgaben aus der Tabelle in die freien Felder und rechne sie im Kopf aus.

+	22	37	43	54	-
31	J		B	H	27
52		F	L	D	
49	G	I	A		19
27	C		E	K	

A	$49 + 43 - 19 = 73$	B	$31 + 43 =$	=
C	$27 +$	D		=
E		F		
G		H		
I		J		
K		L		

Di

erledigt
 kontrolliert

Spiegeln im Gitternetz

Spiegele an der gekennzeichneten Achse. Du erhältst ein Wort. Wie heißt es?

Mi

erledigt
 kontrolliert

Rechne im Kopf!

Rechne die Aufgaben aus und schreibe die Lösungen in die freien Felder! Aus den Kontrollbuchstaben der richtigen Antwort ergibt sich ein Lösungswort.

A $752 - 231 =$ **B** $727 - 416 =$

C $527 - 215 =$ **D** $689 - 362 =$

E $653 - 342 =$ **F** $412 - 109 =$

Kennbuchstaben

313	351	311	511	312	327	303	521
↓	↓	↓	↓	↓	↓	↓	↓
A	R	E	F	R	S	Y	J

Lösungswort:

A **B** **C** **D** **E** **F**

Do

erledigt
 kontrolliert

Rechnen mit Geld

Du gehst einkaufen und hast den angegebenen Betrag in deinem Geldbeutel. Kreuze an wie viel Geld du noch hast, wenn du die in den Kästen gezeigten Beträge gezahlt hast. Die Buchstaben hinter den richtigen Lösungen ergeben das Lösungswort.

A € 9 **B** € 8 **C** € 11 **D** € 5

€ 2,70 € 3,40 € 2,75 € 3,60 € 4,90 € 5,20 € 0,75 € 1,23

€ 2,90 **M** € 1,85 **I** € 1,20 **T** € 3,02 **S**

€ 2,50 **F** € 1,75 **A** € 1,10 **L** € 2,92 **M**

€ 2,70 **P** € 1,65 **O** € 0,90 **P** € 3,22 **A**

Lösungswort:

A	<input type="checkbox"/>
B	<input type="checkbox"/>
C	<input type="checkbox"/>
D	<input type="checkbox"/>

Fr

erledigt
 kontrolliert

Würfel- und Quadernetze

Handelt es sich um ein Würfelnetz, ein Quadernetz oder keins von beiden? Kreuze an. Aus den Kennbuchstaben der richtigen Lösungen ergibt sich ein Lösungswort.

A **T** Würfelnetz **B** **H** Würfelnetz **C** **Ö** Würfelnetz

F Quadernetz **I** Quadernetz **L** weder noch **G** Quadernetz

N weder noch

D **H** Würfelnetz **E** **R** Würfelnetz

E Quadernetz **N** weder noch

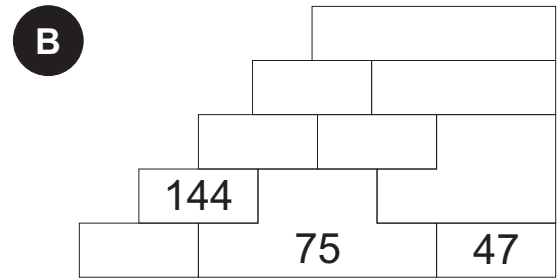
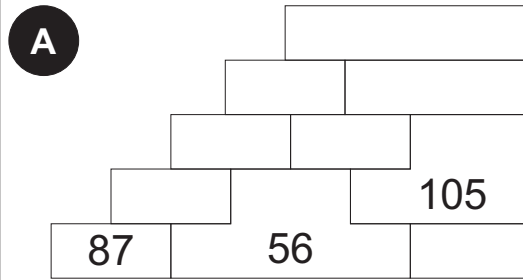
Lösungswort: **A** **B** **C** **D** **E**

Mo

erledigt kontrolliert

Plustreppen

Vervollständige die Plustreppen so, dass zwei Zahlen in Feldern, die nebeneinander stehen, zusammengezählt immer die Zahl im oberen Nachbarfeld ergeben.



Di

erledigt kontrolliert

Kopfrechnen: Division ohne Rest

Dividiere die Zahlen. Aus den Kennbuchstaben der richtigen Lösungen ergibt sich ein Lösungswort.

A 108 : 9	B 76 : 4	C 62 : 2	D 39 : 3
L 9 T 9 R 12	E 19 A 13 O 12	P 33 C 31 N 32	H 13 E 12 W 11
E 48 : 12	F 65 : 13	G 75 : 15	Lösungswort:
V 3 N 4 A 5	E 5 C 4 I 6	K 3 D 4 N 5	A <input type="checkbox"/> B <input type="checkbox"/> C <input type="checkbox"/> D <input type="checkbox"/> E <input type="checkbox"/> F <input type="checkbox"/> G <input type="checkbox"/>

Mi

erledigt kontrolliert

Kilogramm (kg) und Gramm (g)

Kreuze das Gewicht an, das den gleichen Wert wie vorher angibt. Die Buchstaben zur richtigen Lösung ergeben das Lösungswort.

A 1 kg 255 g =	B 2 kg 83 g =	C 9 kg 5 g =	Lösungswort: A <input type="checkbox"/> B <input type="checkbox"/> C <input type="checkbox"/> D <input type="checkbox"/> E <input type="checkbox"/> F <input type="checkbox"/>
A 1250 g S 1255 g	F 2038 g I 2080 g	H 9005 g F 9500 g	
B 1260 g	C 2083 g	L 9050 g	
D 6 kg 780 g =	E 4 kg 77 g =	F 7 kg 9 g =	
N 6870 g U 6078 g	C 4700 g L 4077 g	M 7009 g H 7090 g	
E 6780 g	E 4770 g	N 7900 g	

Do

erledigt kontrolliert

Rechnen mit Stunden, Minuten und Sekunden

Rechne in Minuten um. Die Buchstaben der richtigen Lösungen ergeben das Lösungswort.

A S 396 min	B I 505 min	C H 382 min	D G 294 min	E I 353 min	F E 239 min
R 416 min	C 495 min	L 372 min	E 304 min	Z 334 min	K 227 min
P 426 min	A 515 min	S 482 min	T 284 min	E 343 min	R 229 min
7 h 6 min	8 h 25 min	6 h 12 min	4 h 54 min	5 h 43 min	3 h 49 min
Lösungswort: A <input type="checkbox"/> B <input type="checkbox"/> C <input type="checkbox"/> D <input type="checkbox"/> E <input type="checkbox"/> F <input type="checkbox"/>					

Fr

erledigt kontrolliert

Kilometer (km) / Meter (m)

Kreuze die Größe an, die den gleichen Wert wie vorher angibt. Die Buchstaben zur richtigen Lösung ergeben das Lösungswort.

A 2700 m = 2 km 700 m =	B 8500 m = 8 km 500 m =	Lösungswort: A <input type="checkbox"/> B <input type="checkbox"/> C <input type="checkbox"/> D <input type="checkbox"/> E <input type="checkbox"/> F <input type="checkbox"/>
S 2,7 km P 2,07 km L 2,6 km	K 5,8 km P 7,5 km T 8,5 km	
C 9080 m = 9 km 80 m =	D 11100 m = 11 km 100 m =	
K 9,8 km R 9,08 km O 2,9 km	M 110 km A 111 km I 11,1 km	
E 5030 m = 5 km 30 m =	F 9000 m = 9 km 0 m =	
C 5,03 km N 5,3 km H 3,5 km	T 90 km H 9,0 km G 9,1 km	

Mo

Addition bis 1000 ohne Überschreitung
 Rechne die Aufgaben aus und schreibe die Lösungen unter die Aufgaben. Kreuze unten deine Lösungen an.

A	3	4	2
+	4	3	1

B	2	5	4
+	5	3	4

C	1	7	5
+	5	1	3

D	5	7	1
+	3	2	8

E	6	3	7
+	3	2	2

F	5	2	5
+	1	7	4

G	2	6	4
+	6	2	1

H	5	7	4
+	2	2	5

773
 959
 788
 887
 699
 767
 688
 885
 797
 899
 799

Schriftliche Subtraktion ohne Überschreitung
 Rechne die Aufgaben schriftlich. Kreuze die passende Antwort an. Aus den Kennbuchstaben der richtigen Lösungen ergibt sich ein Lösungswort.

A	3	5	7
-	1	2	4

B	8	2	7
-	4	1	5

C	4	6	5
-	1	3	4

D	7	4	5
-	3	2	3

E	9	6	7
-	5	2	1

F	6	3	7
-	5	1	2

Lösungswort:
 A
 B
 C
 D
 E
 F

F	243
A	233
K	223

M	412
G	422
Z	402

L	341
I	321
P	331

F	422
S	412
K	432

D	436
E	446
Z	456

F	115
L	135
R	125

Mi

Größer, kleiner, gleich?
 Kreuze an, ob die Folgezahl größer, kleiner oder gleich ist. Aus den Kennbuchstaben der richtigen Lösungen ergibt sich ein Lösungswort.

A	974	Z >
		G < 984
		H =

B	593	R >
		B < 539
		W =

C	900	L >
		A < 910
		R =

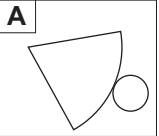
D	365	M >
		L < 356
		B =

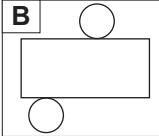
E	111	A >
		E < 111
		M =

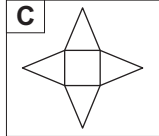
Lösungswort:
 A B C D E

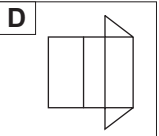
Do

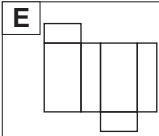
Geometrische Netze
 Kreuze an, um welche geometrischen Netze es sich handelt. Aus den Kennbuchstaben der Lösungen ergibt sich ein Wort.

A		H Pyramide
		K Quader
		S Kegel

B		A Zylinder
		R Quader
		T Pyramide

C		I Quader
		N Prisma
		L Pyramide


D		B Prisma
		O Kugel
		P Würfel

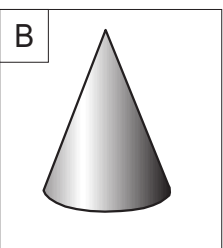
E		L Kugel
		E Quader
		K Kegel

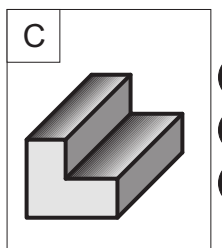
Lösungswort:
 A B C D E

Fr

Geometrische Körper
 Kreuze den Namen des abgebildeten Körpers an. Aus den Kennbuchstaben der richtigen Lösungen ergibt sich ein Lösungswort.

A		L Würfel
		B Kegel
		A Kugel

B		L Kegel
		M Kugel
		O Pyramide

C		C Würfel
		E Prisma
		T Zylinder

Lösungswort:
 A B C

Mo

erledigt
kontrolliert

Schriftliche Addition

Rechne die Aufgaben schriftlich aus.

A $\begin{array}{r} 256 \\ + 475 \\ \hline \end{array}$	B $\begin{array}{r} 579 \\ + 264 \\ \hline \end{array}$	C $\begin{array}{r} 156 \\ + 583 \\ \hline \end{array}$	D $\begin{array}{r} 683 \\ + 149 \\ \hline \end{array}$	E $\begin{array}{r} 487 \\ + 369 \\ \hline \end{array}$
<input type="radio"/> 721 (H) <input type="radio"/> 731 (N) <input type="radio"/> 741 (U)	<input type="radio"/> 833 (R) <input type="radio"/> 743 (I) <input type="radio"/> 843 (A)	<input type="radio"/> 739 (G) <input type="radio"/> 729 (R) <input type="radio"/> 639 (W)	<input type="radio"/> 832 (E) <input type="radio"/> 822 (T) <input type="radio"/> 842 (A)	<input type="radio"/> 756 (A) <input type="radio"/> 856 (L) <input type="radio"/> 766 (C)

Lösungswort: **A B C D E**

Di

erledigt
kontrolliert

Vorgänger/Nachfolger

Kreuze den richtigen Vorgänger und Nachfolger an. Aus den Kennbuchstaben der Lösungen ergibt sich ein Wort.

A	B	C	D
<input type="radio"/> T 669 <input type="radio"/> B 661 <input type="radio"/> F 670 <input type="radio"/> G 668 <input type="radio"/> O 659 <input type="radio"/> L 667	<input type="radio"/> V 681 <input type="radio"/> R 672 <input type="radio"/> E 675 <input type="radio"/> E 670 <input type="radio"/> F 671 <input type="radio"/> S 667	<input type="radio"/> O 859 <input type="radio"/> B 862 <input type="radio"/> I 850 <input type="radio"/> N 862 <input type="radio"/> F 863 <input type="radio"/> S 861	<input type="radio"/> G 931 <input type="radio"/> H 934 <input type="radio"/> G 781 <input type="radio"/> V 722 <input type="radio"/> C 932 <input type="radio"/> 933 <input type="radio"/> F 946 <input type="radio"/> A 718 <input type="radio"/> L 721 <input type="radio"/> E 941 <input type="radio"/> L 711 <input type="radio"/> U 720

Lösungswort: **A B C D E**

Mi

erledigt
kontrolliert

Nachbarzehner/-hunderter

Kreuze die richtigen Nachbarzehner bzw. -hunderter an. Aus den Kennbuchstaben der richtigen Lösungen ergibt sich ein Lösungswort.

A	B	C	D
<input type="radio"/> H 300 <input type="radio"/> B 360 <input type="radio"/> L 390 <input type="radio"/> V 365 <input type="radio"/> O 400 <input type="radio"/> E 370	<input type="radio"/> G 690 <input type="radio"/> B 600 <input type="radio"/> S 710 <input type="radio"/> N 900 <input type="radio"/> F 730 <input type="radio"/> P 720	<input type="radio"/> G 895 <input type="radio"/> I 800 <input type="radio"/> L 894 <input type="radio"/> T 900 <input type="radio"/> F 910 <input type="radio"/> E 890	<input type="radio"/> G 600 <input type="radio"/> A 590 <input type="radio"/> L 800 <input type="radio"/> V 500 <input type="radio"/> L 610 <input type="radio"/> E 620





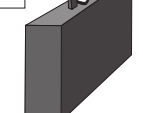
Lösungswort: **A B C D**

Do

erledigt
kontrolliert

Geometrische Körper im Alltag

Kreuze den Körper an, den du in den Abbildungen entdeckst. Aus den Kennbuchstaben der richtigen Lösungen ergibt sich ein Lösungswort.

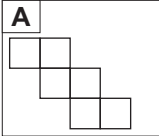
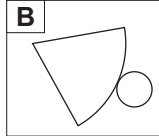
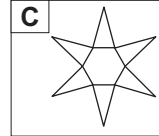
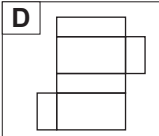
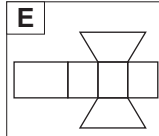
A 	B 	C 	D 	E 	Lösungswort: <table border="1" style="width: 100%; height: 50px;"> <tr><td style="text-align: center;">A</td><td style="text-align: center;"> </td></tr> <tr><td style="text-align: center;">B</td><td style="text-align: center;"> </td></tr> <tr><td style="text-align: center;">C</td><td style="text-align: center;"> </td></tr> <tr><td style="text-align: center;">D</td><td style="text-align: center;"> </td></tr> <tr><td style="text-align: center;">E</td><td style="text-align: center;"> </td></tr> </table>	A		B		C		D		E	
A															
B															
C															
D															
E															
<input type="radio"/> H Würfel <input type="radio"/> B Kegel	<input type="radio"/> O Kegel <input type="radio"/> A Prisma	<input type="radio"/> G Kugel <input type="radio"/> S Kegel	<input type="radio"/> E Würfel <input type="radio"/> K Zylinder	<input type="radio"/> E Quader <input type="radio"/> N Pyramide											

Fr

erledigt
kontrolliert

Geometrische Netze

Kreuze an, welcher Körper aus dem geometrischen Netze gebastelt werden kann. Aus den Kennbuchstaben der Lösungen ergibt sich ein Wort.

A 	H Pyramide	B 	A Kegel	C 	I Kegel
	K Würfel		R Quader		N Prisma
	S Kegel		T Pyramide		R Pyramide
D 	B Prisma	E 	L Kugel	Lösungswort:	
	I Quader		E Quader	A	B
	P Würfel		N Prisma	C	D
				E	